



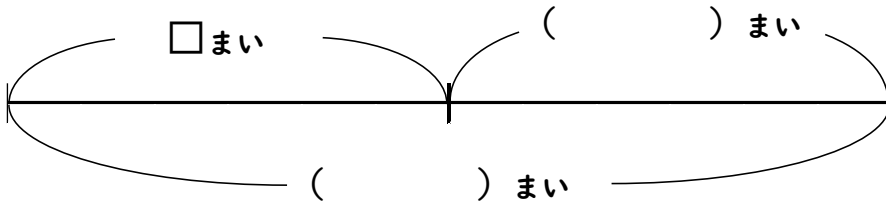
色紙が□まいあります。お姉さんから12まいもらったので、色紙は全部で25まいになりました。はじめ、色紙は何まいありましたか。

ことばの式と図

□にことばを、()に数をかきましょう。

$$\square + \square = \square$$

$$\square + (\quad) = (\quad)$$



式 □を使った式をかいて、答えをもとめましょう。

ヒント

全部の数

はじめの数

もらった数

12

25

答え



水そうに、メダカが□ひきいます。この水そうにメダカを9ひきふやしたところ、メダカは全部で24ひきになりました。はじめ、めだかは何ひきいましたか。

式 □を使った式をかいて、答えをもとめましょう。

答え



□□1

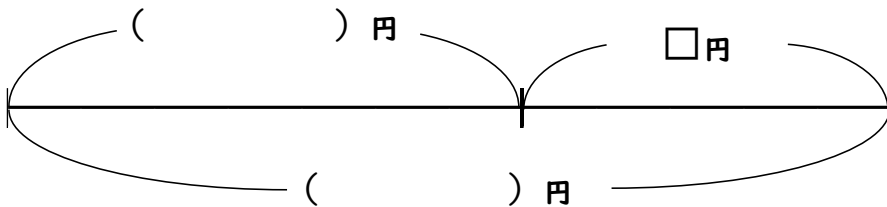
先月のちょ金箱には、180円のお金がありました。今月は□円ちょ金をしたので、ちょ金箱のお金は300円になりました。今月は何円ちょ金しましたか。

ことばの式と図

□にことばを、()に数をかきましょう。

$$\square + \square = \square$$

$$(\quad) + \square = (\quad)$$



式 □を使った式をかいて、答えをもとめましょう。

ヒント

ふやしたお金

はじめのお金

全部のお金

180

300

答え

□□2

先月のちょ金箱には、270円のお金がありました。今月は□円ちょ金をしたので、ちょ金箱のお金は420円になりました。今月は何円ちょ金しましたか。

式 □を使った式をかいて、答えをもとめましょう。

答え



□□1

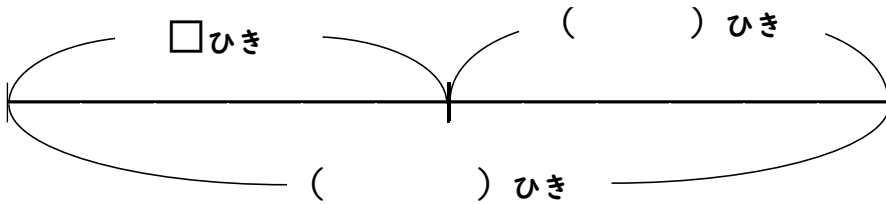
水そうに、メダカが□ひきいます。この水そうにメダカを8ひきふやしたところ、メダカは全部で17ひきになりました。はじめ、めだかは何ひきいましたか。

ことばの式と図

□にことばを、()に数をかきましょう。

$$\square + \square = \square$$

$$\square + () = ()$$



ヒント

はじめの数

全部の数

ふやした数

17

8

ヒント [はじめの数、全部の数、ふやした数、17、8]

式 □を使った式をかいて、答えをもとめましょう。

答え

□□2

色紙が□まいあります。お姉さんから6まいもらったので、色紙は全部で31まいになりました。はじめ、色紙は何まいありましたか。

式 □を使った式をかいて、答えをもとめましょう。

答え

